

1 知識を広げる

月 日 分 ~ 時 分

1 下の絵を見て、問いに答えなさい。



(1) ①～④の絵は、いろいろな数字がつかわれています。つぎのア～エと同じ「けたの数」になるものを①～④からえらんで、その番号を()にかきなさい。

- ア () わたしは2300円もっています。
 イ () さいころをふると、3の目がでました。
 ウ () 算数のテストは、100点でした。
 エ () トランプのカードをひくと、13でした。

(2) ②は、ゼッケンに3つの数字がなっています。なぜ3けただとわかりますか。正しいものを、ア～ウから1つえらびなさい。

- () ア 3からはじまる数だから。
 イ 数字の3が多いから。
 ウ 数字が3つなっているから。



- 「けた」について
 1から9までの数を1けたの数。
 10から99までの数を2けたの数。
 100から999までの数を3けたの数。
 1000から9999までの数を4けたの数という。
 数字がいくつならんでいるかで「けた」がきまる。

2 観察する

月 日 時 分
時 分 ~ 時 分

1 お金はそれぞれ何まいずつありますか。次の□の中に、あてはまる数をかき入れなさい。

		10円玉	1円玉
(1)	① ① ⑩ ①		
(2)	⑩ ① ⑩ ① ① ①		
(3)	⑩ ①①① ⑩ ①①① ① ① ⑩	100円玉	
(4)	① ① ① ①①① ①		

2 次の文の () の中に、あてはまる数をかき入れなさい。

(1) 100を(あ)こ、10を(い)こ、1を(う)こ、あわせた数は578です。
また、その百の位は(え)こ、十の位は(お)こ、一の位は(か)こです。

(2) 「さんびゃくなな」を数字であらわすと、(あ)ことなります。その十の位は(い)こです。

3 下のカードをつかって、3けたの数をつくりなさい。数字のカードは数字で、かん字のカードはかん字であらわしなさい。(カードは1回しかつかえません。)

九 0 3 十 0 百 2 七 百 0

三 4 八 百 6 二 五 5 0

数字 () () ()

かん字 () () ()

③ 発見する

月 日
時 分 ~ 時 分

- 1 $100-300-500-\square-900\cdots$ という数字が、あるきまりにしたがってなっています。 \square にあてはまる数のもとめかたの答えとして、正しいものをア～ウからえらんで、()の中に記号でかきなさい。

- () ア 500のつぎは501なので、501とかく。
 イ 500のつぎは600なので、600とかく。
 ウ 100が300になり、300が500になっていることから、200ずつふえていると^{かんが}えて、500より200多い700とかく。

- 2 0, 100, 300, 600, …… とあるきまりにしたがって、数字がなっています。つぎの問いに答えなさい。

- (1) 0から100までに は数字はいくつありますか。
 (2) 100から300ま でのには数字はいくつありますか。
 (3) はじめから数えて5 番目の数はいくつですか。



かんたんな数で考えてみる。たとえば、3から5までだといくつあるのかなど。

- 3 数字がなっています。この数はどんなものにつかわれている数でしょうか。

1. 5, 10, 50, 100, 500
1000, 5000, 10000

- 4 4けたの数で、いちばん小さい数といちばん大きい数をかきなさい。

ア いちばん小さい数


イ いちばん大きい数

4 飛躍する

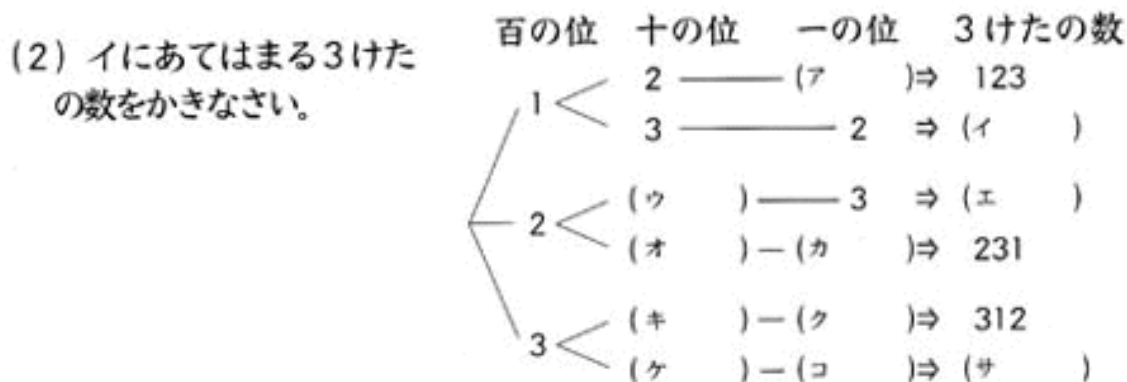
月 日 時 分
時 分 ~ 時 分

1 1, 2, 3の3つの数字を1つずつつかって3けたの数をつくります。

(1) 百の位ひゃくにする数字を1とします。このとき、十の位を2とすると、一の位はどの数字になりますか。アにあてはまる数字をかきなさい。

 下のような図を木のえだににていることからツリーとよぶ。

[図であらわす]

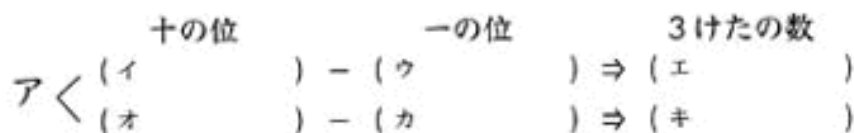



(3) 百の位にする数字を2とします。ウ～カにあてはまる数字をかきなさい。

(4) 百の位にする数字を3とします。キ～サにあてはまる数字をかきなさい。

2 0, 1, 2の3つの数字を1つずつつかって、3けたの数をつくります。ア～セにあてはまる数を()の中にかきなさい。

(1) 百の位に(ア)がきたとき



 百の位でつかえない数字がある。

(2) 百の位に(ク)がきたとき

